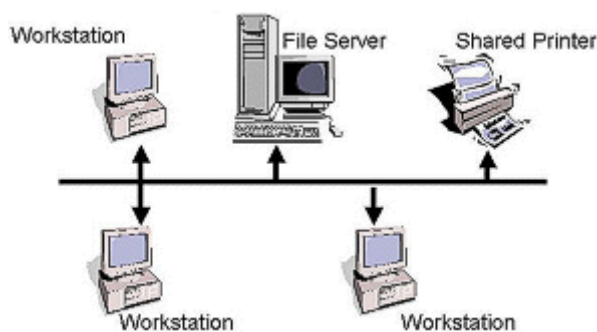
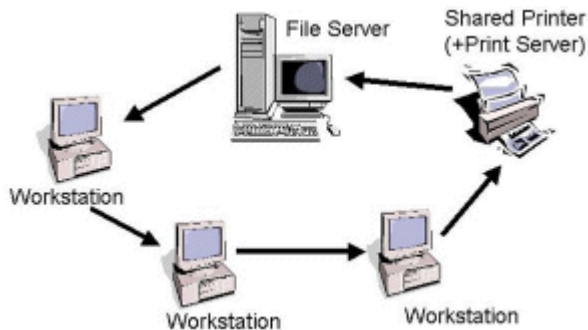




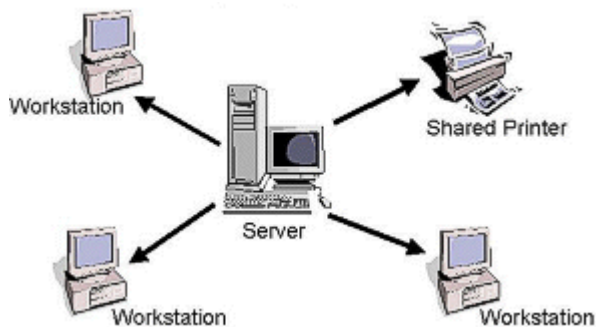
1. Define topologia.
2. Identifica as topologias de rede que conheces e define a topologia em células wireless.
3. Identifica as seguintes topologias:
  - a.



b.



c.



4. Indica uma vantagem da centralização existente numa rede em estrela.
5. Indica uma desvantagem da topologia em anel face à estrela.
6. Distinga uma rede com topologia física em malha de uma rede com topologia física em estrela.